

總分：18 分

每題選出最佳答案

1. 以下哪種情況與需求定律不相符？

- A. 當魚的價格上升，陳太購買少些魚。
- B. 當三文治的價格下降，阿濃購買更多三文治。
- C. 無論價格是多少，淑貞也購買相同數量的張學友唱片。
- D. 當物品 X 的價格上升 10%，其需求量減少 20%。

2. 假設市場上只有以下兩位生產者：

價格 (\$/ 單位)	3	3.5	4	4.5	5	5.5
黃先生的供應量 (單位 / 月)	10	20	30	40	50	60
陳小姐的供應量 (單位 / 週)	5	10	15	20	25	30

下列哪一句敘述是正確的？

- A. 黃先生的供應大於陳小姐。
- B. 當市場價格是\$4，陳小姐每月的供應量是 15 單位。
- C. 當市場價格是\$4.5，黃先生的供應量是 30 單位。
- D. 當市場價格是\$5，每月的市場供應量是 150 單位。

3. 細閱下表的資料。

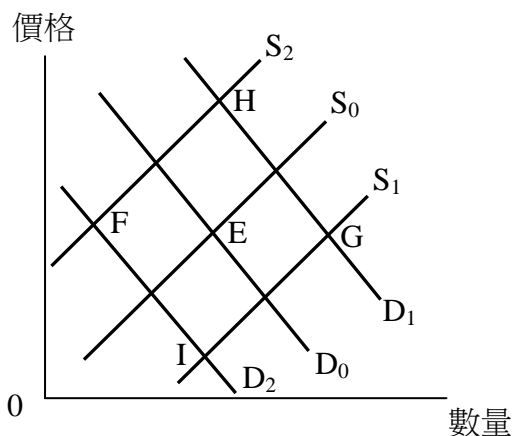
單位價格 (\$)	需求量 (單位 / 時段)	供應量 (單位 / 時段)
2	375	195
3	345	255
4	315	315
5	285	375
6	255	435
7	225	495

在\$2的價格下，_____ 是 _____ 單位；而成交量是 _____ 單位。

- A. 短缺；180；195
- B. 短缺；375；195
- C. 盈餘；180；375
- D. 盈餘；195；375

4. 由於香港適齡學童的人數持續減少，
- A. 教師和教科書的供應皆下降。
 - B. 教師和教科書的需求皆下降。
 - C. 教師的需求下降，而教科書的需求上升。
 - D. 教師的供應上升，而教科書的供應下降。
5. 以下哪一組物品屬於競爭性需求？
- A. 碗和筷子
 - B. 橡皮擦和鉛筆
 - C. 教科書和歷年公開試試題
 - D. Yahoo ! Messenger 和 MSN Messenger
6. 以下哪一組物品屬於衍生需求？
- A. PSP 和它的遊戲光碟
 - B. 電影和演員
 - C. 鞋和襪
 - D. 貓和狗
7. 以下哪一項會引致物品的供應上升？
- A. 它的價格上升。
 - B. 與該物品屬聯合供應的物品的價格上升。
 - C. 它的生產成本上升。
 - D. 部分生產者退出該行業。
8. 下列哪一項不可能是興建港珠澳大橋的影響？
- A. 香港建造業工人的失業情況得到改善。
 - B. 港鐵的乘客數目上升。
 - C. 香港製造業工人的失業情況出現惡化。
 - D. 澳門旅遊業的總收入上升。
9. 禽流感在香港爆發時，活雞的價格大幅下降。以下哪項最能解釋這種情況？
- A. 活雞的需求減少
 - B. 活雞的供應增加
 - C. 活雞需求減少的幅度遠大於供應減少的幅度
 - D. 活雞供應增加的幅度遠大於需求減少的幅度

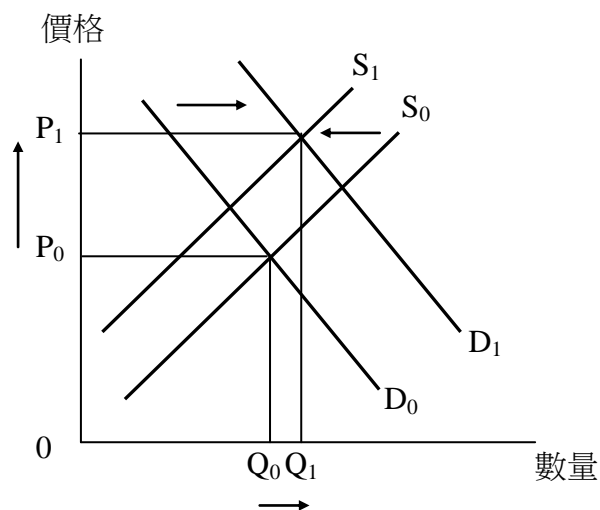
10. 下列哪一項陳述是正確的？
- 當需求和供應同時上升，成交量可升可跌。
 - 當需求和供應同時上升，價格必然上升。
 - 當需求和供應同時下降，成交量可升可跌。
 - 當需求和供應同時下降，價格可升可跌。
11. 現在，香港的家長比以前的更願意花錢讓子女報讀遊學團。此外，有更多機構提供這類遊學服務。以下哪一項陳述是正確的？
- 遊學團的價格上升。
 - 遊學團的價格下降。
 - 遊學團的交易量上升。
 - 遊學團的交易量下跌。
12. 假設入口 DVD 的價格上升，但供應量下降。以下哪項陳述可解釋這個現象？
- DVD 的生產技術提升。
 - DVD 播放器的價格下降。
 - 更多人喜歡看電影。
 - DVD 的生產成本上升。
- A. 只有 (1) B. 只有 (1) 和 (2) C. 只有 (2) 和 (3) D. 只有 (4)
13. 以下哪項不可能是物品 A 的成交量增加的原因？
- 物品 A 的需求和供應均增加。
 - 物品 A 的代替品的供應增加。
 - 物品 A 的需求增加。
 - 物品 A 的需求減少，但供應增加。
14. 下圖顯示中國內地製造的玩具在美國市場的情況。



原本的均衡點是 E 點。假設美國出現更多兒童被這些玩具的物料感染中毒的個案，而運送這些玩具的成本上升。結果，新的均衡點是

- A. H 點。 B. G 點。 C. F 點。 D. I 點。

15. 以下是報紙的供需圖。

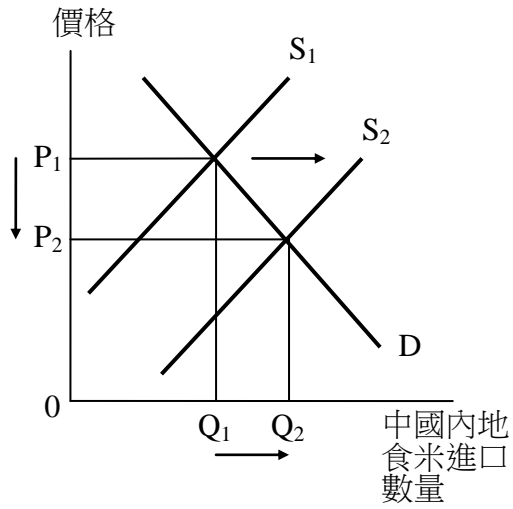


上圖最適合用來描述下列哪一種情況？

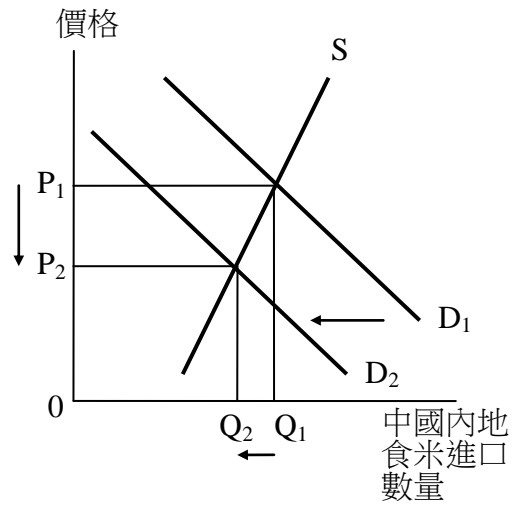
- A. 紙張的價格上漲；報章以減價的手段來爭取市場佔有率。
 B. 紙張的價格上漲；政府大力推動學生閱報計劃，出資為每名學生訂購報紙。
 C. 政府向報社提供津貼；市民的收入下跌。
 D. 政府向報社提供津貼；失業人數上升。

16. 假設泰國食米被發現有毒，香港政府因而禁止泰國食米入口，結果中國內地的食米在香港市場的價格上升。以下哪一幅圖對中國內地食米在香港市場的描述是最恰當的？

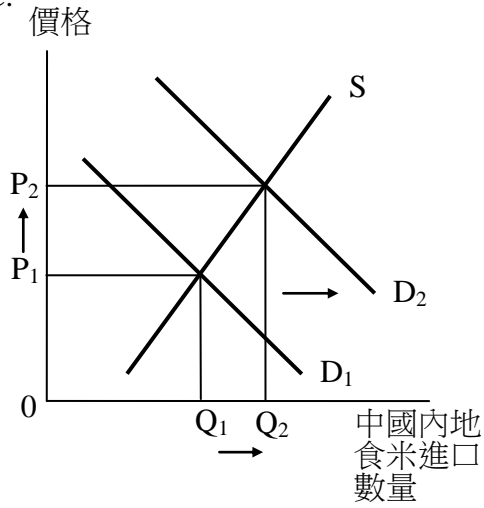
A.



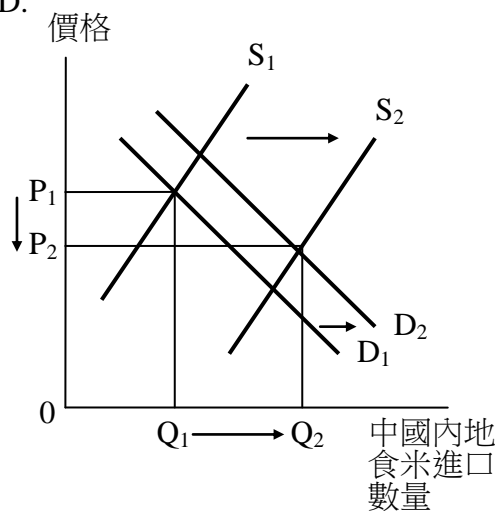
B.



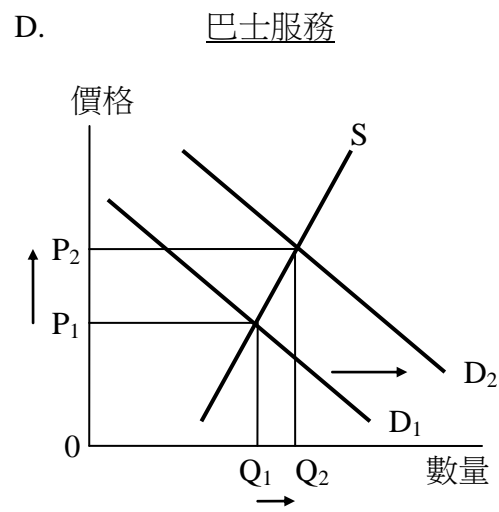
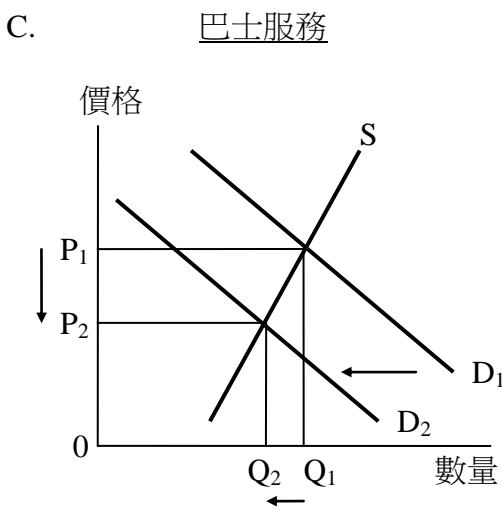
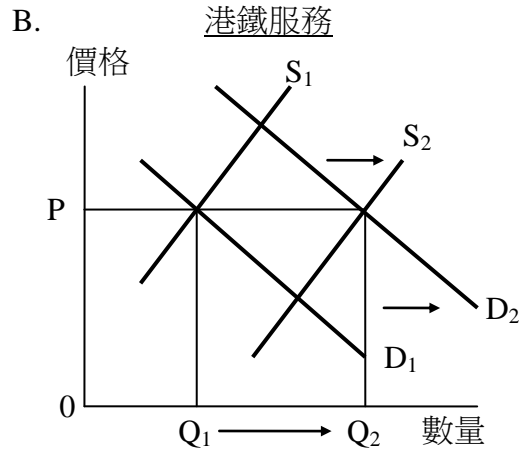
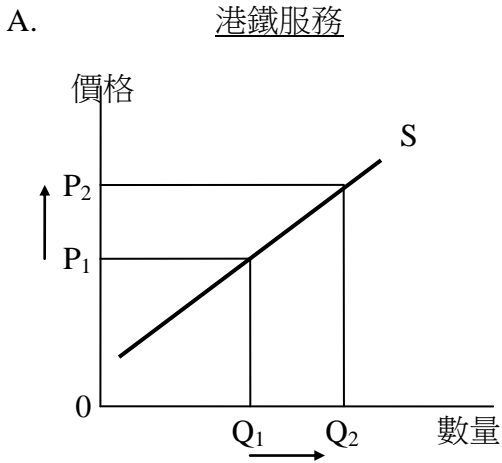
C.



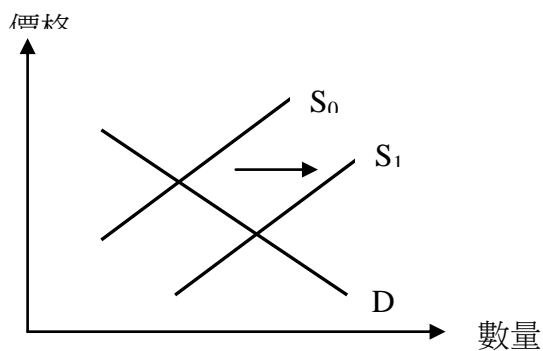
D.



17. 港鐵公司取消了「搭十送一」的優惠。下列哪圖顯示其影響？



18. 鑑於經營成本持續上升，政府減低汽油稅。



上圖顯示哪一個受政策影響的市場？

- A. 旅遊業 B. 飲食業 C. 銀行及金融業 D. 運輸業

完